



Hast du den Dreh raus?


Welches der Bilder mit den Nummern 1 bis 6 musst du drehen, um das große Bild zu erhalten?




1.



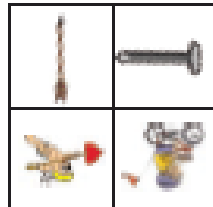
2.




3.





4.




5.




6.



1.




2.




3.



4.



5.



6.



Satzglieder

Kundenupload

leicht erklärt

1 Eine Kette setzt sich aus vielen einzelnen Gliedern zusammen:

Die Glieder können sehr unterschiedlich aussehen:



Ein Satz setzt sich ebenfalls aus Gliedern zusammen.

Auch Satzglieder sehen unterschiedlich aus: Sie können sowohl aus einem als auch aus mehreren Wörtern bestehen.

Beispiel:



2 Jedes Satzglied hat einen Namen.

Mit Hilfe bestimmter Fragen kann man herausfinden, wie das Satzglied heißt.

Frage

Name / Bezeichnung des Satzglieds

Wer oder was? → _____

Was tut ...? Was geschieht? → _____

Wessen? → _____

Wem?

Wen oder was?

Wann? Seit wann? Wie lange? → Adverbiale Bestimmung der _____

Wo? Woher? Wohin? → des _____

Warum? Wozu? Wodurch? Weshalb? → des _____

Wie? Auf welche Weise? → der _____

2 Bestimme die Satzglieder in den folgenden Sätzen!

Kürze wie folgt ab:

S = Subjekt

P = Prädikat

O3 = Dativobjekt

O4 = Akkusativobjekt

ZE = Zeitergänzung

OE = Ortsergänzung

AE = Artergänzung

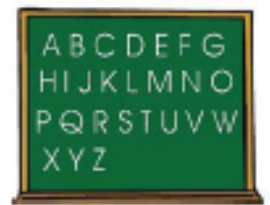
Die Mutter backt mir einen Kuchen.



Thomas kommt am Abend nach Hause.

Seit vielen Jahren gehen die Kinder zusammen in die Schule.

Gestern hat Georg ein Geschenk gekauft.



Stefanie spielt am liebsten mit ihrer besten Freundin.

Morgen werde ich um 14 Uhr meinen Freund besuchen.



Singend betrat Frau Müller am Montag ihren Arbeitsplatz.


Vorgestern habe ich Manuel zufällig auf der Straße getroffen.

Nächstes Jahr werden wir den Urlaub in Italien verbringen.

Meine Freundin umarmte mich ganz fest.



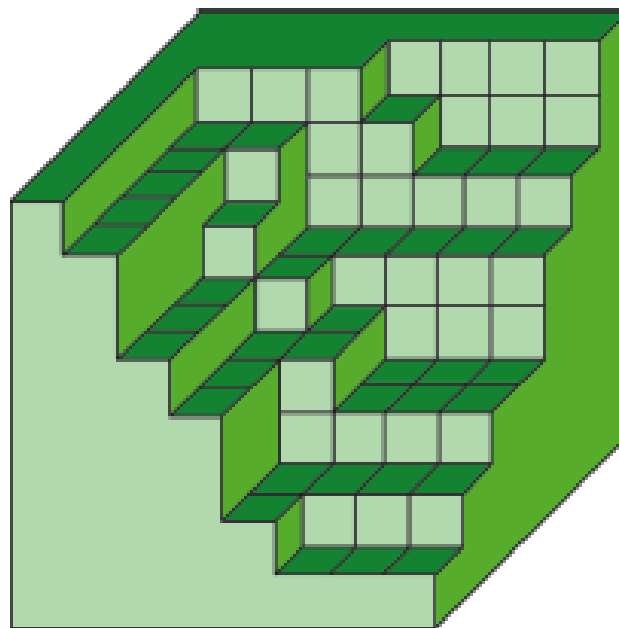
Der Fußballer schießt den Ball locker ins Tor.



Würfel vervollständigen




Wie viele kleine Würfel fehlen, damit der große Würfel vollständig aufgefüllt werden kann?



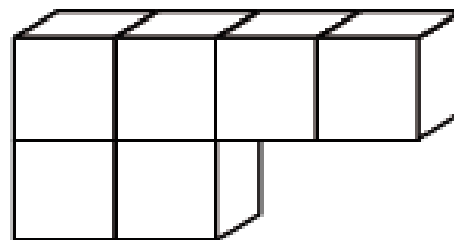
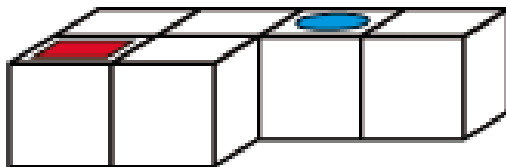
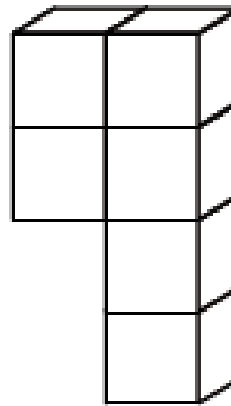

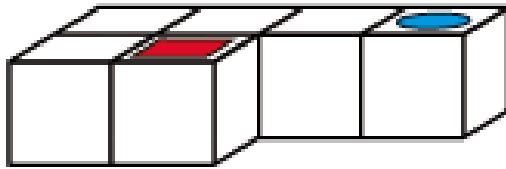
Welche Formen passen zusammen?

Du siehst geometrische Formen in verschiedenen Größen. Aber irgendetwas stimmt hier nicht, oder? Schneide die einzelnen Teile aus und versuche die Hälften zusammen zu fügen. Eine Hilfe wird dir die Größe der Teile sein.



Perspektivisch denken und Zahlenquiz

- 1 Hier siehst du auf dem linken Körper jeweils verschiedene Formen. Übertrage sie auf die rechten Körper. Du musst ein wenig umdenken!



- 2 Versuche aus den 3 folgenden Ziffern möglichst viele dreistellige Zahlen zu bilden, schreibe alle die du findest auf die Zeilen rechts daneben!

3 5 0

Man kann dreistellige Zahlen bilden.

9 7 4

Man kann dreistellige Zahlen bilden.

Figuren zeichnen

1. Verkleinern und vergrößern:

Zeichne links die Figur immer halb so groß und rechts doppelt so groß wie das Original.

